

令 2

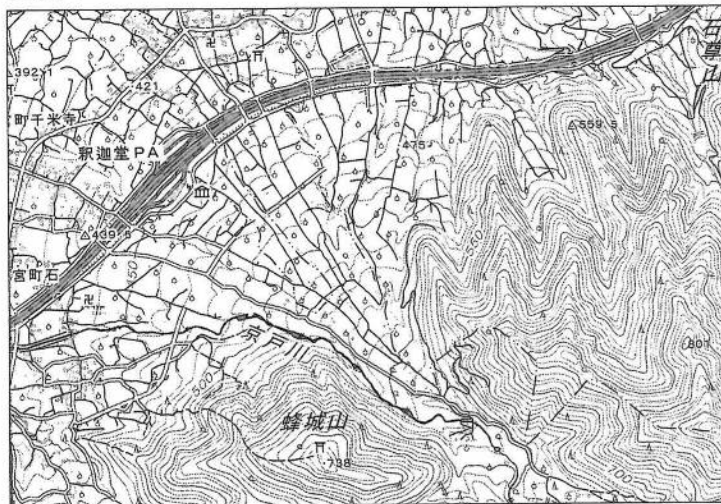
社 会
問 題 用 紙

1

ある中学校の社会科の授業で、「中部地方の産業」というテーマで、班ごとに課題を設定し、学習しました。次の1～3に答えなさい。

1 A班では、「自然環境を生かした農業は、どのように行われているだろう」という課題を設定し、中部地方の農業に関連する資料1～資料4を集めました。下の(1)～(3)の問いに答えなさい。

資料1



〔国土地理院発行2万5千分の1地形図「石和」より作成〕

注) PA(パーキングエリア)とは、高速道路にあるドライバーのための休憩施設である。(NEXCO 東日本ホームページより)

資料2 ぶどうの主な生産国(2016年)

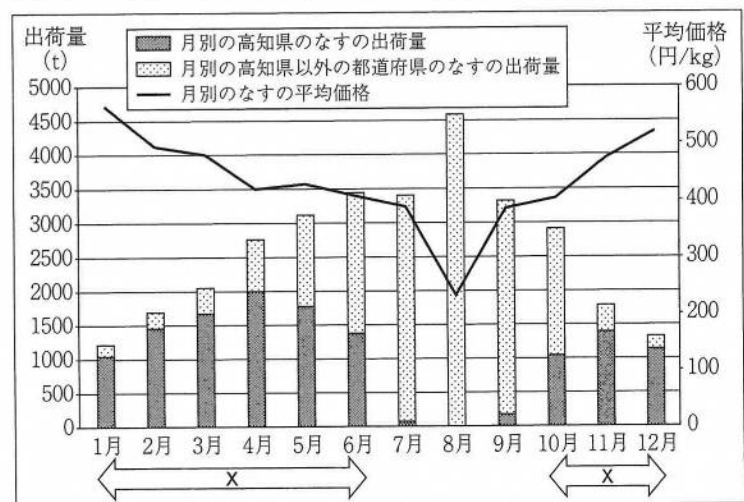
生産国名	生産量(万t)
中国	1476
イタリア	820
アメリカ	710
フランス	625
スペイン	593

〔「世界国勢図会」2018/19年版より作成〕

資料3 菊の電照栽培のようす
(愛知県渥美半島)



資料4 東京都中央卸売市場へのなすの出荷量と平均価格



〔東京都中央卸売市場ホームページより作成〕

(1) 資料1の地形図について述べた文として最も適切なものを、次のア～エの中から一つ選んで、その記号を書きなさい。

- ア 釈迦堂PAの近くには、図書館がある。
- イ 京戸川が山地から平地に流れ出る所に、扇状地が見られる。
- ウ 釈迦堂PAは、蜂城山の頂上付近にある神社から見ると北東の方角にある。
- エ 高速道路の北側には、神社や寺院は見られない。

- (2) A班では、甲府盆地でさかんな果樹栽培に注目しました。太郎さんは、世界のぶどう栽培に興味をもち、資料2を見つけて、次のような<メモ>を作成しました。<メモ>の **あ** に当てはまる内容を、下のア～エの中から一つ選んで、その記号を書きなさい。

<メモ>

イタリアやフランス、スペインの地中海沿岸では、 **あ** ，ぶどうやオリーブ、オレンジなどの栽培が行われている。

- ア 乾燥する夏の気候を利用して イ 水の得られるオアシスの周辺で
ウ 熱帯のプランテーションで エ 古くから続く焼畑農業により

- (3) A班では、東海地方の農業と、関連するほかの地方の農業について、資料3、資料4をもとに<メモ>にまとめました。<メモ>の **い** に当てはまる内容を、「出荷量」と「価格」の語を用いて、解答用紙の書き出しに続けて書きなさい。

<メモ>

○資料3から

- ・愛知県渥美半島では、菊に光を当てることで開花時期を遅らせ、出荷時期を調整する電照栽培が行われている。
- ・出荷時期を調整する農業は、ほかにも高知平野で、温暖な気候を生かし、ビニールハウスを利用した、なすの促成栽培が行われている。

○資料4から

- ・資料4のXの時期に高知県のなすの出荷量が多いのは、 **い** ，多くの収入を得ることができるようにするためであると考えられる。

○さらに調べてみたいこと

- ・愛知県渥美半島で電照栽培されている菊でも、高知平野で促成栽培されているなすと同じことが言えるのか。

- 2 B班では、「なぜ北陸地方には地場産業が発達したのだろう」という課題を設定し、資料5、資料6をもとに話し合いました。あとの(1)～(3)の問いに答えなさい。

資料5 北陸地方の伝統的工芸品



資料6 鯖江市の眼鏡産業

福井県鯖江市では、今から100年あまり前の1905年、農家の副業として眼鏡のフレームづくりが始まった。現在では、国内生産量の約9割、世界生産量の約2割にあたる眼鏡フレームが鯖江で生産されている。

[鯖江市ホームページより作成]

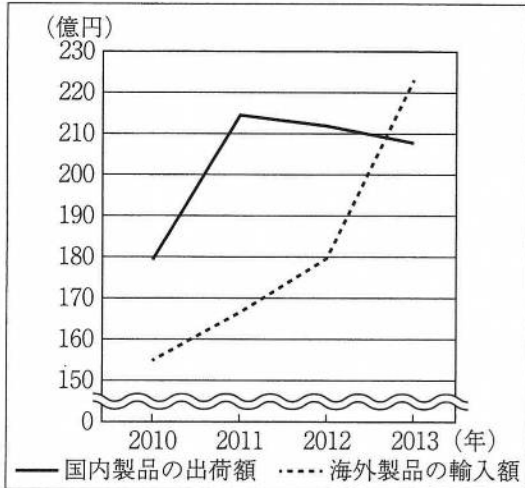
[伝統的工芸品産業振興協会資料より作成]

- 太郎：資料5を見ると、北陸地方では多くの伝統的工芸品がつくられていることがわかるね。
花子：そうね。輪島塗や加賀友禅などが見られる **う** をはじめ、多くの県で伝統産業が見られるのね。
太郎：伝統産業以外にも、様々な地場産業が発達しているようだよ。資料6にある鯖江市の ^a眼鏡産業もその一つだね。
花子：鯖江市の眼鏡産業は、農家の副業として始まったのね。北陸地方で地場産業が発達したのは、^b農作業の都合と関係があるんじゃないかしら。

(1) 文中の **う** に当てはまる県名を書きなさい。

(2) 下線部 **a** について、太郎さんは鯖江市を中心とする日本の眼鏡産業について調べていく中で、**資料7**を見つけ、次のようにまとめました。<まとめ>の **え** に当てはまる内容を、下のア～エの中から一つ選んで、その記号を書きなさい。

資料7 眼鏡フレームの国内製品の出荷額と海外製品の輸入額



注) 国内製品の出荷額は、国内向けのみの額である。
〔眼鏡データベース 2018〕より作成

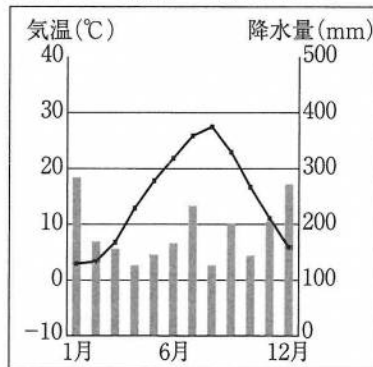
<まとめ>

資料7を見て、眼鏡フレームの国内製品の出荷額と海外製品の輸入額について、2010年と2013年を比較すると、**え** ことがわかる。このことから、日本の眼鏡産業は、海外製品との激しい競争にさらされているのではないかと推測できる。

- ア 国内製品の出荷額は、減少しており、海外製品の輸入額は増加している
- イ 国内製品の出荷額は、減少しており、海外製品の輸入額も減少している
- ウ 国内製品の出荷額は、海外製品の輸入額を下回っていたが、上回るようになった
- エ 国内製品の出荷額は、海外製品の輸入額を上回っていたが、下回るようになった

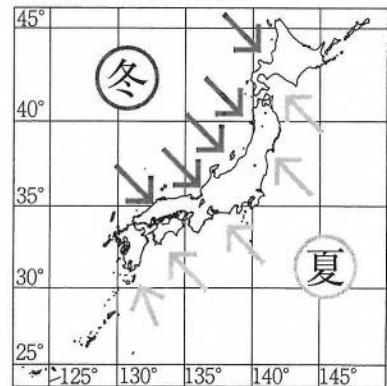
(3) 下線部 **b** について、花子さんは北陸地方の気候に関する**資料8**、**資料9**を見つけ、次のようにまとめました。<まとめ>の **お** に当てはまる内容を、**資料8**、**資料9**の両方から読み取ったことをもとに書きなさい。

資料8 福井市の気温と降水量



〔理科年表〕2018年版より作成

資料9 日本の季節風



<まとめ>

北陸地方では、冬には **お** ため、農作業ができないことから、家の中でできる副業が発達した。これらが地場産業として今日に受け継がれている。


3 C班では、「愛知県の自動車産業はどのようになっているのだろう」という課題を設定し、調べたことをまとめました。あとの(1)～(3)の問いに答えなさい。

<まとめ>

愛知県とよた豊田市周辺では、繊維工業の技術を応用して、d自動車の生産が行われるようになり、日本の自動車産業の中心地として発展しました。この地域で生産された自動車は、主に名古屋港から輸出され、日本の主要な輸出品の一つとなっています。

(1) 下線部 c について、この地域をふくむ工業地帯または工業地域の名称を書きなさい。また、この工業地帯または工業地域の製造品出荷額の内訳を示したグラフとして最も適切なものを、右の資料 10 中のア～エの中から一つ選んで、その記号を書きなさい。

資料 10 工業地帯または工業地域の製造品出荷額の内訳

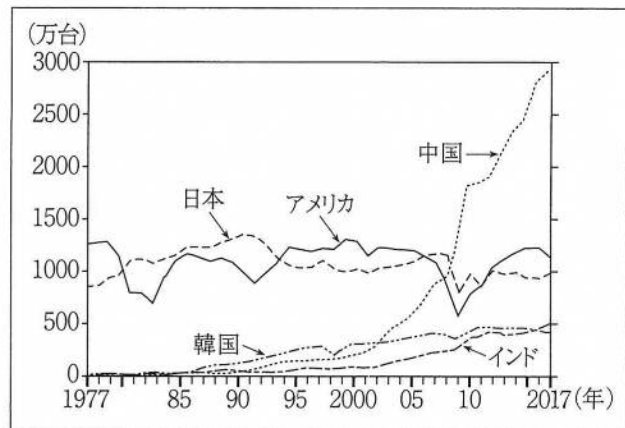


〔「日本国勢図会」2018/19年版より作成〕

(2) 下線部 d について、C 班では、世界の自動車工業についても調べ、学習をひろげていくと、資料 11 を見つけました。資料 11 の内容について述べた文として最も適切なものを、次のア～エの中から一つ選んで、その記号を書きなさい。

- ア 2017 年の日本とアメリカの自動車の生産台数を合わせると、中国の自動車の生産台数を上回る。
- イ 中国の 2017 年の自動車の生産台数は、2000 年の 5 倍を超えている。
- ウ 日本の自動車の生産台数は 1990 年代前半に減少しているが、これは石油危機による影響と考えられる。
- エ 2008 年から翌年にかけて、アメリカや中国の自動車の生産台数が減少しているが、これは世界金融危機の影響と考えられる。

資料 11 主な国の自動車の生産台数



〔「日本国勢図会」2018/19年版より作成〕

(3) C 班でさらに調べていくと、中国は、日本企業をはじめ外国企業を招き入れることで 1980 年代以降急速に工業化を進めたことと、近年ではその動向に変化が生じていることがわかりました。C 班では、資料 12 を参考にして、下のような<追加のまとめ>を作成しました。<追加のまとめ>の **か** に当てはまる内容を、「平均賃金」、「東南アジア」の語を用いて書きなさい。

資料 12 日本企業の進出数と平均賃金の指数

国名	日本企業の進出数			平均賃金の指数 (2017 年)
	2015 年	2016 年	2017 年	
インドネシア	1163	1218	1269	13.5
中国	6825	6774	6744	31.0
タイ	2318	2412	2482	15.7
ベトナム	889	972	1062	8.5
マレーシア	926	965	973	14.8

注) 平均賃金の指数は、日本(東京)を 100 とした場合の値。首都における製造業の賃金を基準としている。

〔日本貿易振興機構資料、「データブック オブ・ザ・ワールド」2017・2018・2019 より作成〕

<追加のまとめ>

中国では、多くの外国企業を経済特区などへ招き入れ、工業化を進めてきました。資料 12 を見ると、日本企業の海外への進出数は、中国が多いことがわかります。しかし、日本企業の海外への進出数の変化に着目すると、近年では、**か** への進出数が増えていることがわかります。

2

ある中学校の社会科の授業で、「政治の歴史」というテーマにもとづき、時代の特色を考える学習をしました。次の1, 2に答えなさい。

1 花子さんは、様々な時代の法(きまり)について調べ、カード1～カード3を作成しました。下の(1)～(3)の問いに答えなさい。

カード1 ^{たいか} ^{かいしん} a 大化の改新により、政治改革が始められた。律令制のもとで、班田収授(の)法により、^{こせき} ^{ひとびと} 戸籍に登録された6歳以上のすべての人々に、性別や身分などに応じて **あ** があたえられた。

カード2 領地の質入れや売買は、御家人の生活が苦しくなるもとなので、禁止された。御家人以外の武士や庶民が御家人から買った土地については、売買後の年数に関わりなく、返さなければならないことが示された。

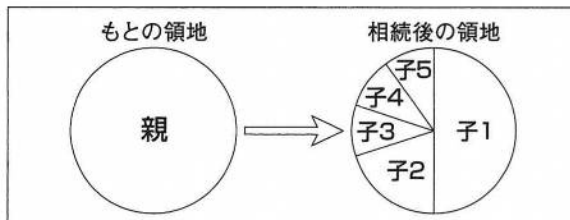
カード3 どの海辺の村においても、外国船が乗り寄せてきたことを発見したならば、その場に居合わせた人々で、有無を言わずただちに打ち払うことが示された。

(1) カード1の **あ** に当てはまる語を書きなさい。また、次の文は、下線部 a に関係する人物について説明したものである。この人物の天皇即位前の名前を書きなさい。

そがし 蘇我氏をたおしたのち、土地と人々を国家が直接支配する新しいしくみをつくる改革を始めた。その後即位して天智天皇となった。

(2) 花子さんは、カード2の法が出された背景について調べ、下のようにまとめました。資料1を参考に、<まとめ>の **い** に当てはまる内容を書きなさい。また、資料2と<まとめ>の **う** に共通して当てはまる中国の王朝名を、下のア～エの中から一つ選んで、その記号を書きなさい。

資料1 ^{かくら} 鎌倉時代の御家人の土地相続の例



注)円グラフの例は、実際の相続の割合と異なる場合もある。

資料2 **う** との戦いの様子



<まとめ>

御家人の領地は、複数の子どもが **い** 。さらに、2度にわたる **う** との戦いがあり、御家人の生活は苦しくなった。

ア 隋 イ 宋 ウ 元 エ 明

(3) 花子さんは、カード3の法が出された17年後の1842年に資料3の法が出されたことを知り、その理由について友だちの意見を聞きました。文中の **え** に当てはまる内容を、下のア～エの中から一つ選んで、その記号を書きなさい。

資料3

日本に来航する外国船には、燃料や水、食料をあたえて帰すこと。

太郎：この時期には、多くの外国船が日本の近海に現れていたね。

花子：外国船への対応のしかたが、わずか十数年で変わっているのはどうしてかしら。

太郎：**え** ことが、幕府にも影響をあたえたんじゃないかな。

ア 辛亥革命で中華民国が誕生した

イ フランス革命で人権宣言が出された

ウ ルターが宗教改革を始めた

エ アヘン戦争で清がイギリスに敗れた

2 太郎さんは、右の年表をもとに近現代の政治について調べました。次の(1)～(3)の問いに答えなさい。

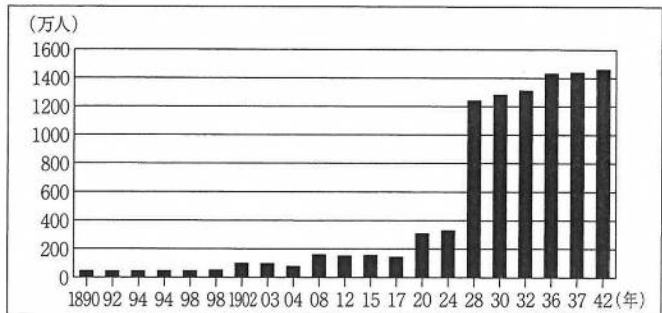
(1) 年表中のA～Dと、その時期におこったできごとの組み合わせとして最も適切なものを、次のア～エの中から一つ選んで、その記号を書きなさい。

- ア A - 日本は遼東半島を清に返還した。
 イ B - 富山県で米の安売りを求める騒動がおきた。
 ウ C - 犬養毅首相が海軍軍人に暗殺された。
 エ D - 日本国憲法が公布された。

西暦	できごと
b 1889	A 大日本帝国憲法を公布する
1914	B 第一次世界大戦が始まる
1951	C サンフランシスコ平和条約を結ぶ
	D

(2) 太郎さんは、下線部 b の年の翌年に、最初の衆議院議員選挙が行われたことを知り、有権者数の移り変わりについて調べ、資料4を見つけました。資料4の中で有権者数が最も増加しているのは1928年ですが、その理由を書きなさい。

資料4 有権者数の移り変わり



〔日本長期統計総覧〕より作成

(3) 太郎さんが調べていくと、下線部 c の条約の翌年に日本が独立を回復した後、国際連合への加盟を認められるまでに4年かかっていることがわかりました。このことについて、太郎さんは下のようにまとめました。資料5、資料6をもとに、<まとめ>の **お** に当てはまる内容を書きなさい。また、下線部 d の国が第二次世界大戦末期に占拠し、日本が返還を求めている島々を、資料7のA～Eの中から一つ選んで、その記号を書きなさい。

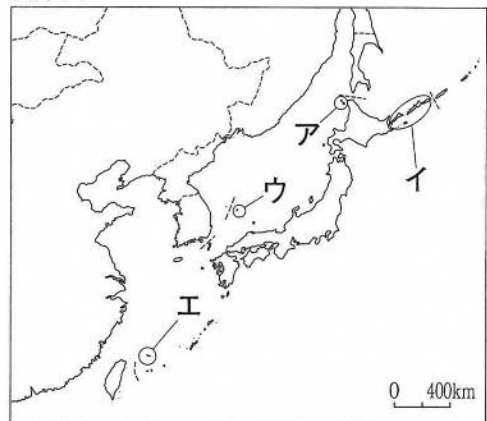
資料5 日ソ共同宣言

日本と d ソビエト社会主義共和国連邦との間の戦争状態は、この宣言が効力を生ずる日に終了し、両国の間に平和及び友好善隣関係が回復される。

資料6 日本の国際連合加盟申請に対する安全保障理事会常任理事国の賛否

年	アメリカ	イギリス	フランス	ソ連	中華民国
1952	賛成	賛成	賛成	反対	賛成
1956	賛成	賛成	賛成	賛成	賛成

資料7



<まとめ>

1956年に日ソ共同宣言が調印され、日本とソ連の国交が回復し、 **お** ため、日本の国際連合への加盟が実現した。

3 ある中学校の社会科の授業で、「私たちの暮らしと税金」というテーマで、課題を設定し、学習しました。次の1, 2に答えなさい。

1 太郎さんたちは、「税金の役割」について話し合いました。下の(1)~(3)の問いに答えなさい。

太郎：税金にはいろいろな種類があるけれど、消費税のように僕たち中学生も支払う税金があるね。

花子：大人になって働くようになったら、所得税も納めることになるよね。

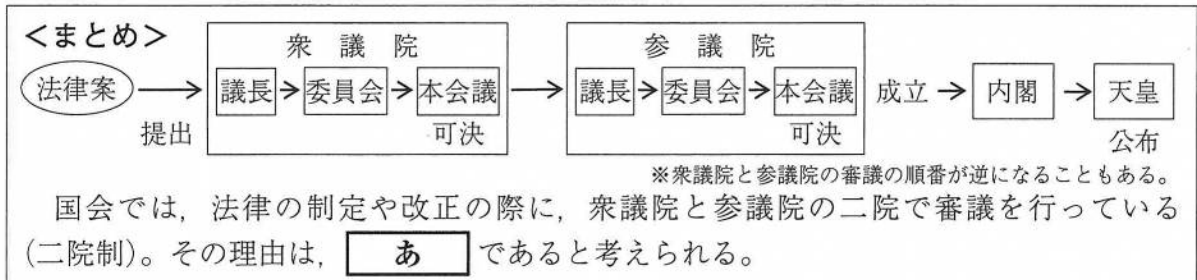
太郎：集められた税金は、社会保障や公共事業などに使われると聞いたよ。

花子：私たちの税金は何に使われているのかな。

(1) 下線部 a について、税金は、国が集め財源とする国税と、地方公共団体が集め財源とする地方税に分けることができます。また、税金を納める人と負担する人が同じである直接税と、納める人と負担する人が異なる間接税に分けることができます。このうち、国税であり直接税でもある税金を、次のア~エの中から一つ選んで、その記号を書きなさい。

ア 法人税 イ 酒税 ウ 関税 エ 自動車税

(2) 下線部 b について、太郎さんは、消費税の税率を引き上げる場合、国会でどのような手続きが行われるのかを調べ、次のようにまとめました。<まとめ>の **あ** に当てはまる内容を書きなさい。



(3) 下線部 c について、太郎さんが調べると、所得税の課税方法に特徴があることがわかりました。これについて、太郎さんは次のような<まとめ>を作成し、クラスで発表することにしました。

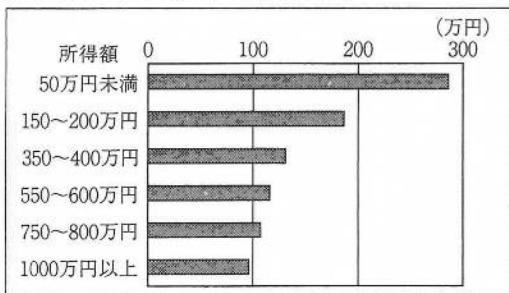
資料1, 資料2をもとに、<まとめ>の **い** に当てはまる語を書きなさい。また、**う** に当てはまる内容を書きなさい。

資料1 所得税の税率(2014年)

課税対象の所得額	税率
195万円以下	5%
195~330万円以下	10%
330~695万円以下	20%
695~900万円以下	23%
900~1800万円以下	33%
1800万円超	40%

[国税庁資料より作成]

資料2 社会保障給付額(2014年)



[「厚生労働省調査報告書」より作成]

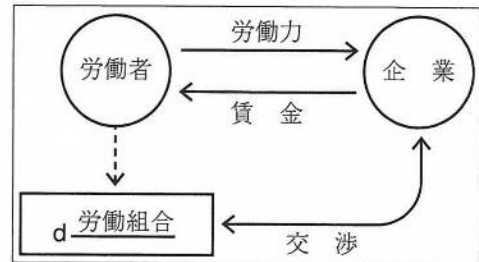
<まとめ>

所得税では、資料1のような **い** が導入されている。これは所得が高い人ほど税率が高くなるしくみである。また、資料2から、所得の低い人ほど社会保障給付額が高いことがわかる。この財源が税金である場合、**い** には、**う** という役割があると言えるのではないだろうか。

2 花子さんは、「労働者が安心して働ける社会」という課題を設定し、学習しました。次の(1)～(3)の問いに答えなさい。

(1) 資料3の下線部dについて、花子さんは、日本国憲法で保障された基本的人権と関連付けて調べ、次のような<メモ>を作成しました。下線部eの権利に含まれるものを、下のア～エの中から一つ選んで、その記号を書きなさい。また、第一次世界大戦後にドイツで制定され、下線部eの権利を世界で初めて取り入れた憲法を何というか書きなさい。

資料3 労働者と企業の関係



<メモ>

労働者は、使用者である企業よりも立場が弱いため、労働組合をつくる。
 →労働基本権(団結権、団体交渉権、団体行動権)は、e 社会権として日本国憲法で保障されている。

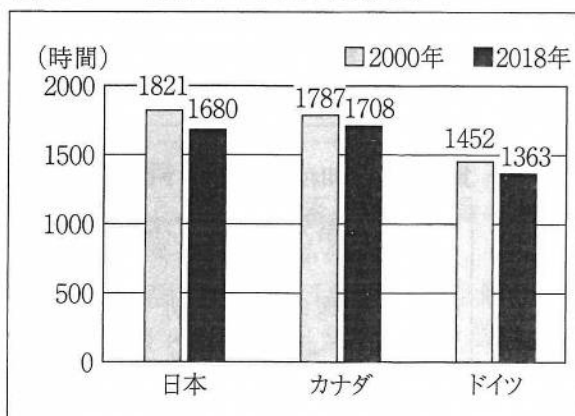
ア 選挙権 イ 請願権 ウ 知る権利 エ 生存権

(2) 太郎さんと意見交流した花子さんは、労働者の生活にも社会保障が大きく関わっていることに気づき、話し合いました。文中の **え** に当てはまる語を書きなさい。

花子：不景気になると、企業の業績が下がるので、失業する人も増えるわ。
 太郎：そうだね。企業などで働く労働者には、毎月掛け金を積み立てて、失業したときは給付金を受け取ることができる雇用保険があるね。
 花子：それは、社会保障制度の4つの柱のうち、 **え** のしくみね。 **え** にはほかに、医療保険(健康保険)や年金保険などがあるわ。

(3) 花子さんが調べていくと、近年、仕事と私生活のどちらも充実させて両立することを目指す考え方が重視されていることがわかりました。花子さんは、2000年と2018年のおもな国の一人当たりの平均年間労働時間について、資料4を見つけ、次のような<まとめ>を作成し、クラスで発表しました。<まとめ>の **お** に当てはまる内容を書きなさい。また、 **か** に当てはまる語を書きなさい。

資料4 一人当たりの平均年間労働時間



〔OECDデータベースより作成〕

<まとめ>

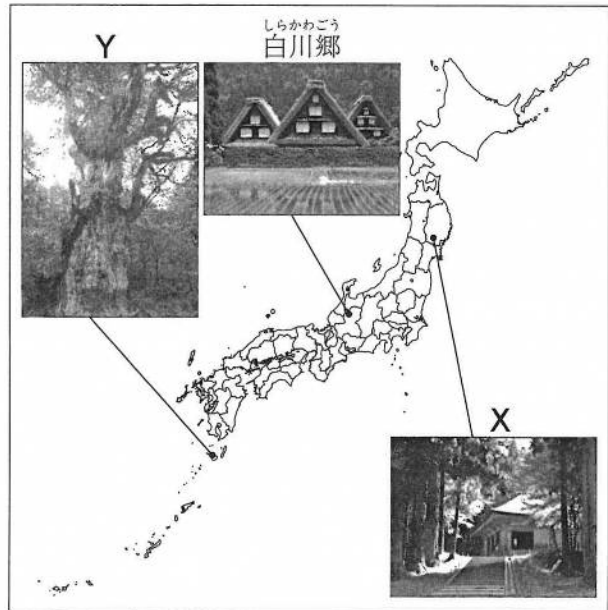
資料4を見ると、2000年の日本の一人当たりの平均年間労働時間は、他国と比べて長いことがわかる。しかし、2000年と2018年の日本の一人当たりの平均年間労働時間を比較すると、 **お** ことがわかる。

これは、仕事と家庭生活との両立、つまり **か** の実現にむけた取り組みが関係していると考えられる。

4 ある中学校の社会科の授業で、「持続可能な未来のために」というテーマで、班ごとに課題を設定し、学習しました。次の1～3に答えなさい。

1 A班では、「多様な文化や自然と世界遺産」という課題を設定し、調べたことを資料1にまとめました。次の(1)、(2)の問いに答えなさい。

資料1 日本の世界遺産(一部)



(1) 資料1中のX、Yに当てはまる世界遺産について説明した文を、次の①～④の中からそれぞれ選び、その組み合わせとして最も適切なものを、下のア～エの中から一つ選んで、その記号を書きなさい。

- ① この地域を支配していた豪族が拠点とした場所で、金箔で装飾された中尊寺金色堂などが残る。
- ② 最盛期には世界有数の産出量をあげた、戦国時代から開発された銀山の遺跡が残る。
- ③ 年間降水量が多く標高差も大きいいため、樹齢数千年の「縄文杉」をはじめ多様な動植物が見られる。
- ④ 人の手の入らない広大な森林や流水の流れ着く海が広がり、自然を生かした観光が盛んである。

ア [X-① Y-③] イ [X-① Y-④]
 ウ [X-② Y-③] エ [X-② Y-④]

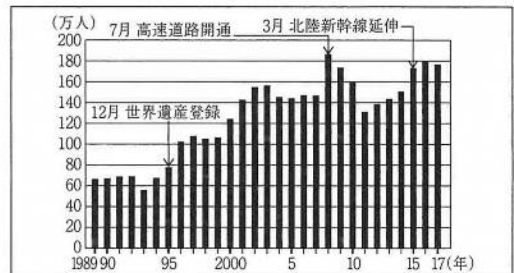
(2) A班では、「世界遺産と観光」について興味をひろげ、資料1の白川郷のある白川村の観光について、資料2、資料3をもとに話し合いました。文中の「あ」に当てはまる内容を書きなさい。また、資料3を参考に、「い」に当てはまる内容を書きなさい。

花子：資料2の、1995年の観光客数と2017年の観光客数を比較すると、大きく増えているのがわかるわね。増えているのは、世界遺産への登録があったからね。

太郎：そうだね。でも、資料2の観光客数の推移を見ると「あ」から、理由はそれだけじゃないと思うよ。

花子：そうね。他にあるかもしれないから、調べてみるわ。ところで、これだけ観光客が増えると様々な問題が出てきそうね。資料3や「持続可能な未来のために」という私たちのテーマから、「い」という視点も忘れてはいけないわね。

資料2 白川村の観光客数の推移



〔白川村ホームページより作成〕

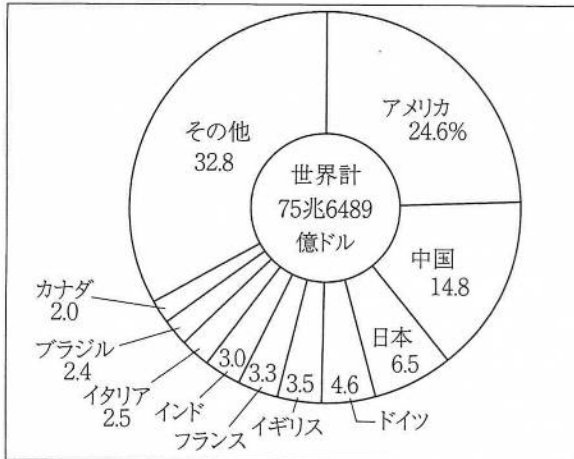
資料3 白川村の景観政策(一部)

- ・建物や屋外広告物の高さや形を制限する。
- ・観光車両の流入を防ぐため、公共駐車場へ誘導するなどの交通対策を実施する。

〔白川村資料より作成〕

2 B班では、「国際協調による課題の解決」という課題を設定し、資料4、資料5を見つけ、資料をもとに話し合いました。次の(1)～(3)の問いに答えなさい。

資料4 国内総生産(GDP)の多い国上位10か国の世界計に占める割合(2016年)



〔「世界国勢図会」2018/19年版より作成〕

資料5 ODAの実績(2016年)

国名	支出額(100万ドル)
アメリカ	34412
ドイツ	24736
イギリス	18053
日本	10417
フランス	9622
イタリア	5087
オランダ	4966
スウェーデン	4894

〔「世界国勢図会」2018/19年版より作成〕

太郎：世界には190か国以上の国があるのに、資料4を見ると、ことから、世界の経済格差は大きいことがわかるね。

花子：そうだね。例えば、南北問題を学習したね。

太郎：経済的に豊かな先進国が北半球に多く、発展途上国が南半球に多かったことから、南北問題とよばれたんだね。

花子：このような問題の解決のためには、国際連合による活動など、国際社会が協力して取り組むことが大切ね。

太郎：資料5を見ると、ODAの各国の支出額がわかるね。

花子：これはという目的で行われるのよね。日本も国際貢献をしていることがわかるわね。

(1) 世界の六つの州の中で、資料4中の上位10か国のいずれの国も属していない州を、アフリカ州のほかにもう一つ書きなさい。

(2) 文中のに当てはまる内容を、解答用紙の書き出し「上位10か国で、」に続けて書きなさい。

(3) 文中のに当てはまる内容を、「発展途上国」という語を用いて書きなさい。

3 C班では、「環境問題」という課題を設定し、調べました。次の(1)～(3)の問いに答えなさい。

(1) C班では、身近な地域の環境問題について調べ、資料6を作成しました。下線部 a について、有権者が条例の改正を請求する場合、集める必要のある署名の数として最も適切なものを、次のア～エの中から一つ選んで、その記号を書きなさい。ただし、茨城県の有権者数を 240 万人とします。

資料6

茨城県の霞ヶ浦は、高度経済成長期に水質の悪化が進み、1970年代にはアオコの発生などが見られるようになりました。
そのため、茨城県は1981年に水質悪化の原因となる物質を削減する a 条例を制定し、市民や企業などと協力して水質改善を進めてきました。

ア 12000人 イ 24000人 ウ 36000人 エ 48000人

(2) A班と意見交流したC班は、世界遺産はどのような環境問題に直面しているか調べ、資料7をもとに次のような<メモ>を作成しました。<メモ>の **お** に当てはまる環境問題の名称を書きなさい。

資料7 ベネチアの浸水被害



<メモ>

- ・二酸化炭素などの温室効果ガスの濃度が高くなるのが原因の一つとなって **お** が進み、世界各地で海面上昇がみられる。
- ・イタリアのベネチアでは、高潮などの際に町が浸水することが増え、将来的な水没の恐れも指摘されている。

(3) C班では、海洋プラスチックごみが、近年世界的な環境問題になっていることを知りました。

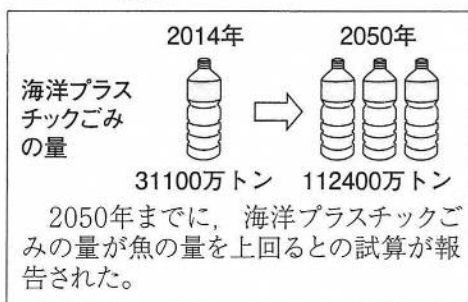
資料8 海洋プラスチックごみが自然分解するまでにかかる年数

レジ袋	1～20年
発泡スチロール製カップ	50年
ペットボトル	400年
釣り糸	600年

注) 海洋プラスチックごみとは、海洋に流出したプラスチックのごみである。

[WWF ジャパン資料より作成]

資料9 海洋プラスチックごみの量と魚の量の関係



[環境省資料ほかより作成]

<まとめ>

現在、海洋汚染は地球規模で広がっており、生態系を含めた海洋環境への影響が懸念されている。

資料8、資料9を見てみると、とくに海洋プラスチックごみは、**か** ことから、大きな環境問題であることがわかる。このような状況を改善するためには、b プラスチックごみを減らす取り組みが有効である。

令 2

社 会

注 意

- 1 問題は、4問で11ページです。
- 2 解答用紙は、この用紙です。とりはずして使用しないでください。
- 3 答えは、すべて解答用紙の指定されたところに記入してください。
- 4 「はじめ」の合図の後、最初にすべてのページがあることを確認してください。

社会解答用紙

得点

--

受検番号

1	1	(1)		(2)		
		(3)	他の都道府県からの			
	2	(1)			県	
		(2)		(3)		
	3	(1)	名称			記号
		(2)				
		(3)				

2	1	(1)	語		名前	
		(2)	内容			記号
		(3)				
	2	(1)				
		(2)				

2	2	(3)	内容		
			記号		

3	1	(1)					
		(2)					
		(3)	語			内容	
	2	(1)	記号		憲法名		
		(2)					
		(3)	内容				
	語						

問題4の解答欄は、裏側にあります。

4	1	(1)		
		(2)	あ 内容	
			い 内容	
	2	(1)		
		(2)	上位 10 か国で,	
		(3)		
	3	(1)	(2)	
		(3)	内容	
			具体例	